

Олимпиадная работа  
по Технологии  
(предмет)

ученика(цы) 7 А класса МБОУ «Школа № 50»

ФИО учащегося (полностью) Погорная Юлия Сергеевна

ФИО учителя/наставника (полностью) Сатерокова Татьяна Викторовна

# ВСЕРОССИЙСКАЯ ОЛИМПИАДА ШКОЛЬНИКОВ ПО ТЕХНОЛОГИИ. ШКОЛЬНЫЙ ЭТАП

2020/2021 учебный год  
Теоретический тур. 7 класс

Код участника: 710704

1. Вставьте в текст название современного оборудования, используемого в том числе и в лёгкой промышленности. \_\_\_\_\_ оборудование используется при раскрое ткани, изготовлении заготовок для аппликаций. Это оборудование обладает достоинствами:

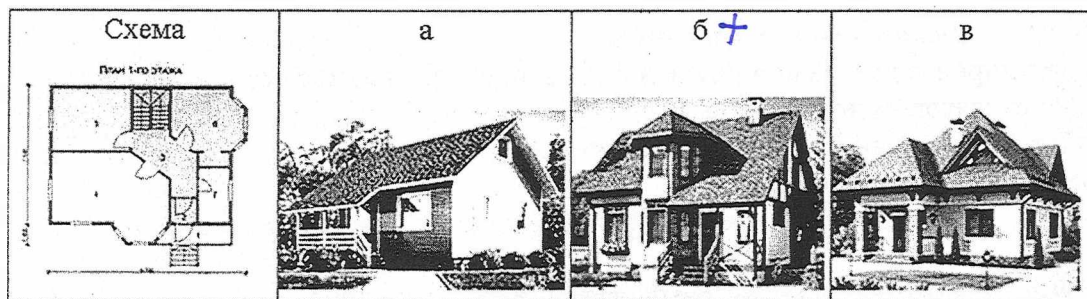
- экономия времени оператора вышивального автомата;
- точное позиционирование, так как весь процесс программируется на компьютере и все контуры будущих шевронов или аппликаций идеально совпадают;
- ровный край без дополнительной обработки. Край шеврона «не сыпется», так как край ткани сплавляется.

2. Отметь знаком «+» правильный ответ. Проект – это:

- а) макет вновь создаваемого изделия;
- б) выполненный образец изделия;
- + в) комплексная работа от идеи до реализации в изделии;
- г) технологическая карта;
- д) чертёж изделия.

3. Отметь знаком «+» правильный ответ.

План 1-го этажа какого дома, представленного в таблице, изображён на схеме?



4. Отметь знаком «+» правильный ответ. Основным строительным материалом для клеток ткани и органов человека являются:

- а) белки;
- б) углеводы;
- в) жиры;
- + г) минеральные соли;
- д) витамины.

5. Отметь знаком «+» неверное утверждение:

- а. Крупные крупы можно заранее замачивать.
- б. Крупу засыпают только в кипящую жидкость.
- в. Варить каши лучше в кастрюле с толстым дном
- + г. Кашу надо варить под крышкой
- д. Солить лучше почти готовую кашу

6. Отметь знаком «+» верный ответ. Пассировка — это
- а) быстрое ошпаривание;
  - б) жарение в духовке;
  - в) легкое обжаривание;
  - г) варка в небольшом количестве воды.

7. С какой целью перед приготовлением мучных изделий просеивается мука?

---

8. У С.Я. Маршака есть такое стихотворение:

Овечья шерсть и шерсть верблюжья

Нужны для фронта как оружие.

Объясни, о каких свойствах шерсти идёт речь?

Из этого мы знаем о прочности

---

9. К какой группе волокон относится шерсть?

шерстяные

---

10. Приведи два примера чистошерстяных тканей.

Ответ: \_\_\_\_\_

11. Отметь знаком «+» верный ответ. Ткань, сотканная из нитей разных цветов —

- а) с ворсом;
- б) набивная;
- в) гладкокрашенная;
- г) пестротканая.

12. Заполни пропуск. Наибольшей осыпаемостью обладают ткани, изготовленные

перекрестным

переплетением.

13. Отметь знаком «+» верный ответ.

Регулировка натяжения нижней нити в швейной машине осуществляется:




- а) регулятором прижимной лапки;
- б) регулировочным винтом на шпульном колпачке;
- в) нитепритягивателем;
- г) регулировкой пластинчатой пружины на шпульном колпачке.

14. Отметь знаком «+» правильный ответ. Чтобы изделие не деформировалось в процессе ВТО утюг необходимо перемещать

- а. круговыми движениями;
- б. вдоль нитей основы;
- в. вдоль нитей утка;
- г. в диагональном направлении;
- д. в любом направлении.

15. Установи соответствие между видом машинного шва и его условным обозначением. Напишите возле цифры из левого столбца соответствующую ей букву из правого.

- 1. Настрочной шов
- 2. Накладной шов
- 3. Расстрочной шов

- а) 
- б) 
- в) 

1 + 16. Результаты измерения нужно разделить пополам при записи следующих мерок:  
 а) Сш; б) Сг; в) Ст; г) Дст; д) Ди.

1 + 17. Установи соответствие между рисунками ночными сорочками и их выкройками.

1	2	3	4	5
а	б	в	г	д

1-б, 2-г, 3-д, 4-г, 5-в

18. Укажи правильную последовательность обработки плечевого изделия:  
 а) примерка изделия;  
 б) обработка основных деталей, их соединение в узлы;  
 в) обработка нижнего среза;  
 г) окончательная влажно-тепловая обработка изделия;  
 д) уточнение деталей после примерки.

Ответ: 1-б, 2-б, 3-а, 4-г, 5-г.

19. Представь, что ты обрабатываешь обтачку горловину с вырезом каре или с V-образным вырезом. Каким приемом ты воспользуешься, чтобы обтачку можно было легче вывернуть, особенно в тех местах, где углы?

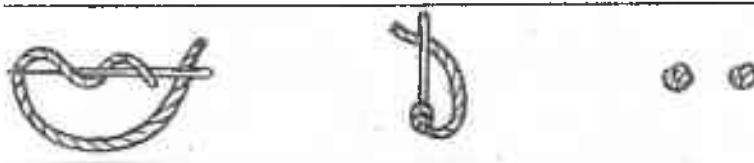
Ответ: \_\_\_\_\_

20. Как называется этот элемент женского костюма XVIII века?



карсет

1 + 21. На рисунке изображена последовательность выполнения ручного шва. Как он называется?



Ответ: Узелок

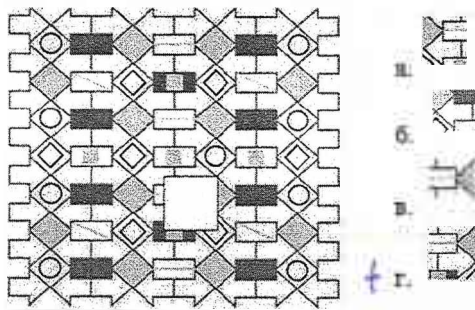
— 22. Отметь знаком «+» все правильные ответы. К народным ремёслам относятся:

- а) кулинария;
- б) ковроткачество;
- в) вышивка;
- г) резьба по дереву;
- д) цветоводство.

1 + 23. Для ремонта квартиры требуется 63 рулона обоев. Сколько пачек обойного клея нужно купить, если одна пачка клея рассчитана на 6 рулонов?

Ответ: 10,5 (11)

1 + 24. Отметь знаком «+» верный ответ. Из коврика в коридоре вырезали кусочек. Укажите, какой именно?



— 25. Отметь знаком «+» все правильные ответы. Правила срезания цветов для букета

- а) срезать рано утром или вечером;
- + б) срезать днем в солнечную погоду;
- в) инструмент для срезки должен иметь острое лезвие;
- + г) срезать цветы необходимо ножницами;
- д) срез цветка должен быть горизонтальным;
- + е) срез делают косым.

Всероссийская олимпиада школьников по технологии  
школьный этап  
2020-2021 учебный год

**Практическое задание**  
**«Моделирование ночной сорочки»**  
**7 классы**

1. Нарисуйте три оригинальные модели ночной сорочки.
2. Придумайте и предложите варианты отделки
3. Максимальное количество баллов за задание – 20 баллов
4. На выполнение работы дается 60 минут.

Модель 1	Модель 2	Модель 3
		
<p>Варианты отделки:</p> <p>1 <u>Рюшки</u></p> <p>2 <u>Пайетки</u></p> <p>3 <u>Увесьтки</u></p> <p>4 <u>Нашивки</u></p>	<p>Варианты отделки:</p> <p>1 <u>Кружева</u></p> <p>2 <u>Нашивки</u></p> <p>3 _____</p> <p>4 _____</p>	<p>Варианты отделки:</p> <p>1 <u>Увесьтки</u></p> <p>2 <u>Рюшки</u></p> <p>3 <u>Кружева</u></p> <p>4 _____</p>

$4 + 3 + 4 + 3 = 14$